

AGORA, É COM VOCÊ


1. Marcela tinha 53 figurinhas. Hoje pela manhã ganhou 17 figurinhas e à tarde ganhou 15. Qual o total de figurinhas que ela tem agora?


2. Flávia tinha 45 pontos ao iniciar um jogo. Ela ganhou 15 pontos e em seguida perdeu 6. Ao final do jogo com quantos pontos ela ficou?

3. Troque as moedas por cédulas. Desenhe-as.




4. Assinale a resposta que corresponde à troca correta.






a)



b)



c)

5. Observe a tabela sobre as condições do tempo no mês de outubro e responda às perguntas.

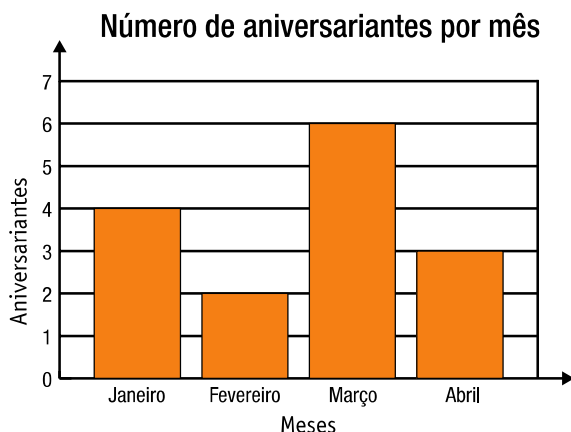
Condições do tempo	Número de dias
Chuvoso	12
Nublado	4
Ensolarado	15



a) Quantos dias ensolarados ocorreram a mais que dias chuvosos?

b) Quantos dias ensolarados ocorreram a mais que dias nublados?

6. Observe o gráfico que está afixado na sala de Olívia e responda.



a) Em qual mês há mais aniversariantes? _____


b) Em qual mês há menos aniversariantes? _____

c) No mês de março há quantos aniversariantes a mais que no mês de fevereiro? _____

7. Escreva se as figuras abaixo parecem com uma esfera ou um círculo.



a) _____



c) _____



b) _____



d) _____

ANA LUÍSA E SUA MESADA

Ana Luísa vai usar sua mesada para presentear algumas pessoas de sua família.

1. Ana Luísa tinha 20 reais e ganhou 15 reais de mesada. Foi a uma loja com sua mãe e comprou um cinto de 8 reais para dar a seu pai. Quantos reais ela ainda tem?



A large empty rectangular box with a green wavy border, intended for the student to write their answer to the first problem.

2. Ana Luísa tinha 27 reais. Comprou uma blusa de 19 reais para presentear sua mãe. Ao chegar em casa seu pai lhe deu 10 reais. Com quantos reais ela ficou?



A large empty rectangular box with a blue dotted border, intended for the student to write their answer to the second problem.



AS COMPRAS DE VOVÓ

A avó de Ana Luísa levou-a para conhecer o centro comercial da rua 25 de Março em São Paulo comprou alguns brinquedos para os netos.

- a)** A avó de Ana Luísa estava com 68 reais, pagou 9 reais em três jogos de quebra-cabeça e 16 reais em quatro jogos do “resta um”. Com quantos reais ela ficou?

- b)** Com o dinheiro que sobrou, a avó de Ana Luísa comprou mais um jogo da memória por 13 reais e uma boneca por 12 reais. Quantos reais restaram?