

Atividade 1º Trimestre

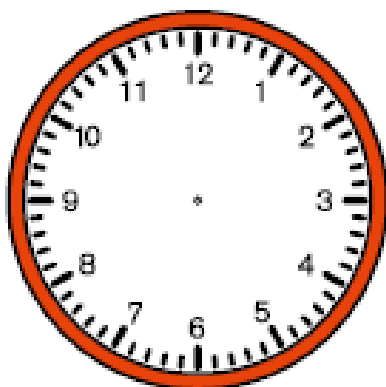
Nome: _____ Data: ____/____/____

ATIVIDADE SOBRE AS HORAS

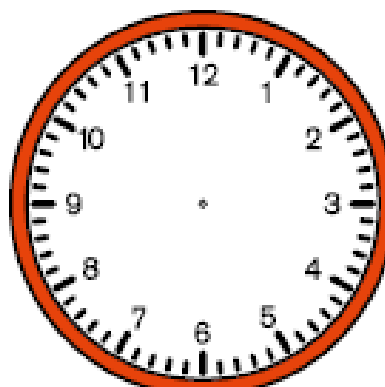
ATIVIDADE 4.5

Marque no relógio de ponteiros cada situação abaixo:

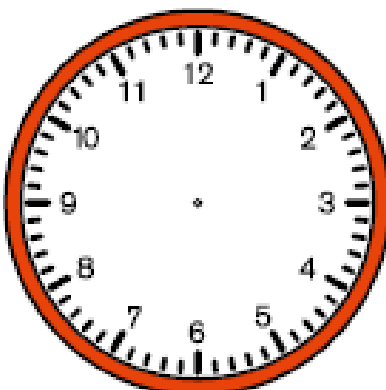
Hora em que a aula se inicia.



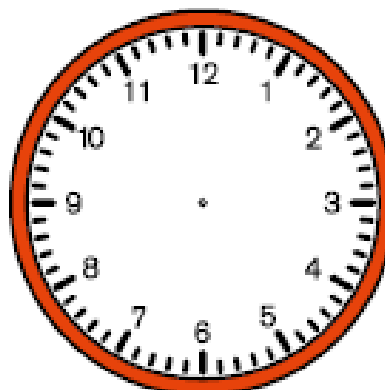
Hora do início do intervalo.



Hora da saída da escola.



Hora em que você foi dormir ontem.



Observe os dois horários marcados no relógio digital. Descubra quanto tempo se passou em cada situação:

Primeiro horário	Segundo horário	Tempo decorrido
		
		
		
		